

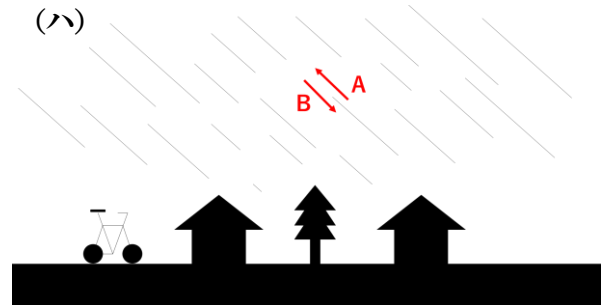
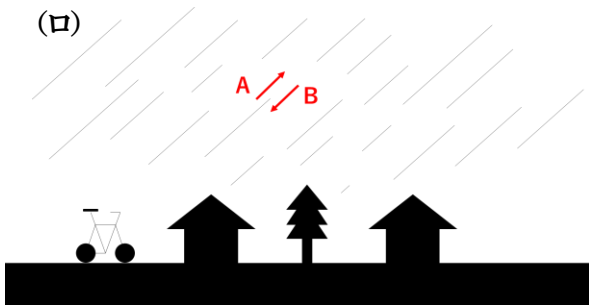
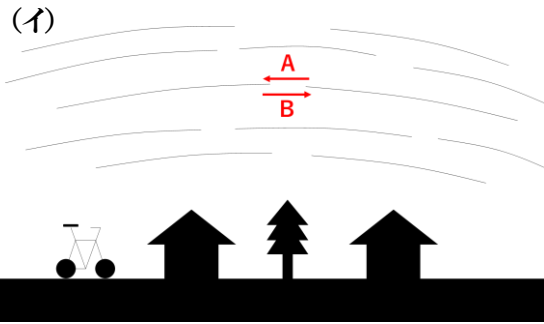
# 星の1日の動き②

名前 \_\_\_\_\_



解答

問1 図(イ)、(ロ)、(ハ)は、星の動きを表す。以下の設問に答えよ。



- ① 図(イ)、(ロ)、(ハ)のうち東の空を表すのはどれか。 ( )
- ② 図(イ)、(ロ)、(ハ)のうち西の空を表すのはどれか。 ( )
- ③ 図(イ)、(ロ)、(ハ)のうち南の空を表すのはどれか。 ( )
- ④ 図(イ)の星はA,Bのどちらに動くか。 ( )
- ⑤ 図(ロ)の星はA,Bのどちらに動くか。 ( )
- ⑥ 図(ハ)の星はA,Bのどちらに動くか。 ( )
- 問2 図の星Aは、3時間後にはB~Fのどの位置にあるか。 ( )

