

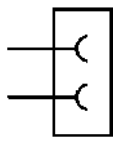

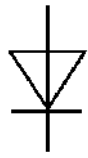
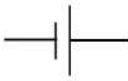

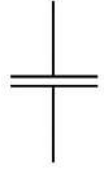
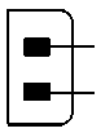
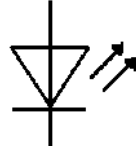



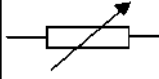
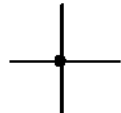

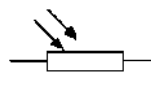
電気回路.2

名前

解答

解答

問1 次の電気用図記号の名称を答えよ。

図記号	名称	図記号	名称	図記号	名称
	コンセント		モータ		ダイオード
	電池 または 直流電源		ランプ (電球)		コンデンサ
	電源プラグ (差し込みプラグ)		発光ダイオード (LED)		抵抗器
	端子		ブザー		可変抵抗器
	導線の接続		スイッチ		光導電セル (Cds)

問2 上の表の電気用図記号を用いて、扇風機の回路図を書け。

