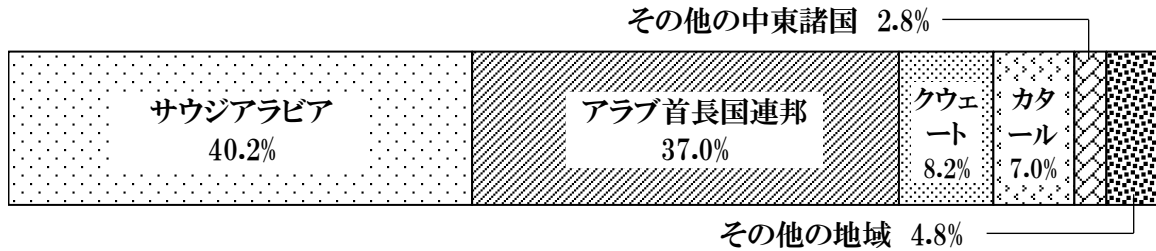


日本の資源・エネルギー.2

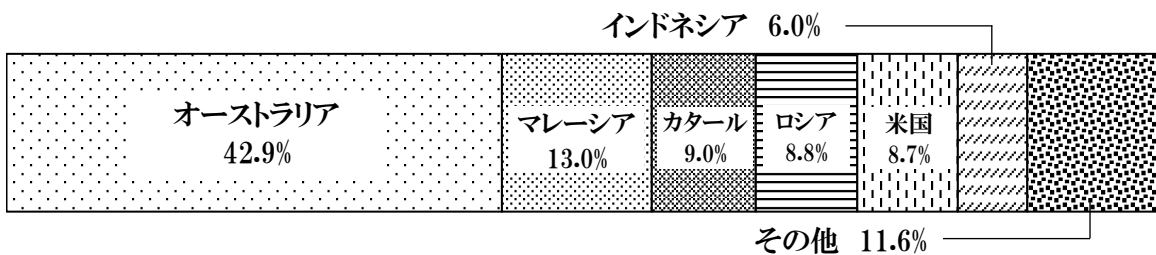
名前 解答

解答

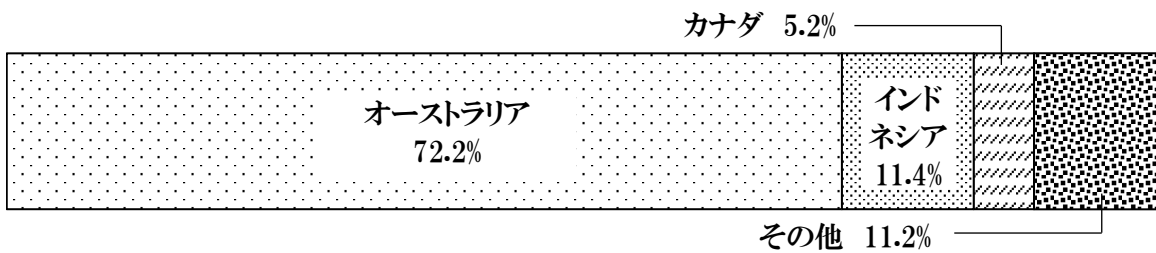
問1 次のグラフは、2022年度の日本の鉱産資源の輸入先を示している。次のグラフで示される鉱産資源は、石炭、石油、天然ガス、鉄鉱石のうちどれか。 (石油)




問2 次のグラフは、2022年度の日本の鉱産資源の輸入先を示している。次のグラフで示される鉱産資源は、石炭、石油、天然ガス、鉄鉱石のうちどれか。 (天然ガス)



問3 次のグラフは、2022年度の日本の鉱産資源の輸入先を示している。次のグラフで示される鉱産資源は、石炭、石油、天然ガス、鉄鉱石のうちどれか。 (石炭)



問4 次のグラフは、2022年度の日本の鉱産資源の輸入先を示している。次のグラフで示される鉱産資源は、石炭、石油、天然ガス、鉄鉱石のうちどれか。 (鉄鉱石)



問5 原子力発電所は、どのような場所に多く設けられているか。また、そのような場所に設けられる理由は何か。

- (場所:都市部から離れた海岸の近く)
- (理由:海水を冷却水として使うことや、事故が発生したときの影響を少なくするため)

