

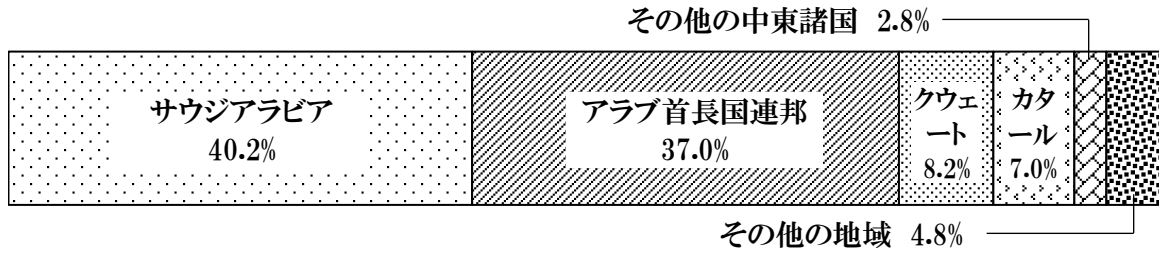


日本の資源・エネルギー.2

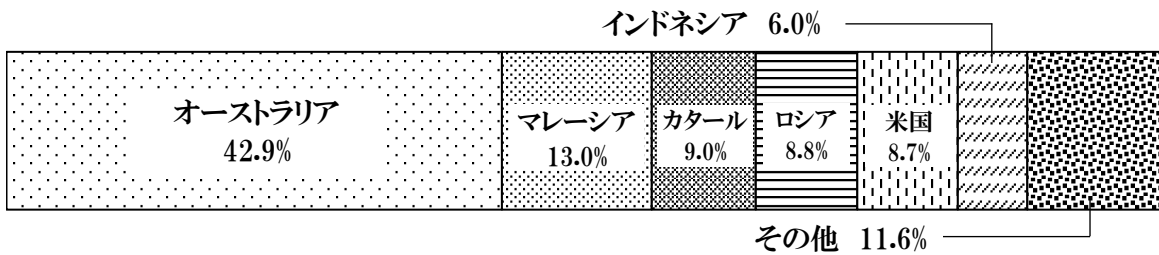
名前 _____

解答

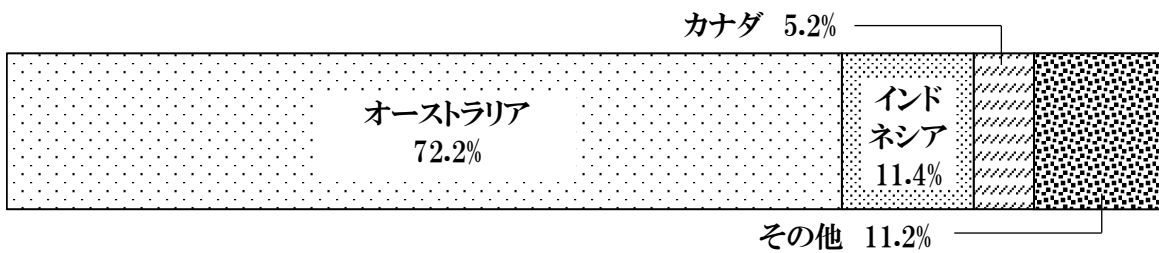
問1 次のグラフは、2022年度の日本の鉱産資源の輸入先を示している。次のグラフで示される鉱産資源は、石炭、石油、天然ガス、鉄鉱石のうちどれか。 ()




問2 次のグラフは、2022年度の日本の鉱産資源の輸入先を示している。次のグラフで示される鉱産資源は、石炭、石油、天然ガス、鉄鉱石のうちどれか。 ()



問3 次のグラフは、2022年度の日本の鉱産資源の輸入先を示している。次のグラフで示される鉱産資源は、石炭、石油、天然ガス、鉄鉱石のうちどれか。 ()



問4 次のグラフは、2022年度の日本の鉱産資源の輸入先を示している。次のグラフで示される鉱産資源は、石炭、石油、天然ガス、鉄鉱石のうちどれか。 ()



問5 原子力発電所は、どのような場所に多く設けられているか。また、そのような場所に設けられる理由は何か。
 (場所:)
 (理由:)

