

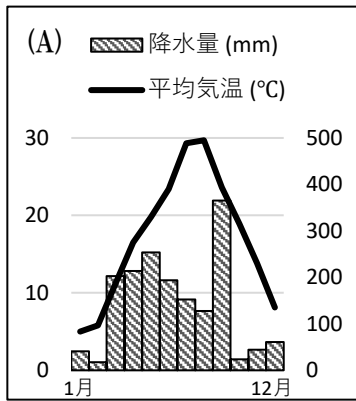
日本の気候の特色.1

名前

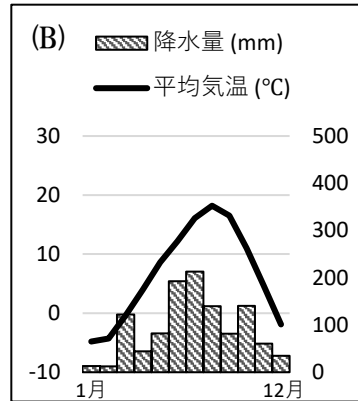
解答

解答

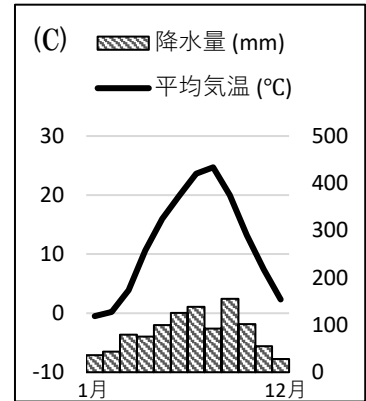
- 問1 日本の大部分が属する気候帯は何か。 (温帯)
- 問2 北海道の気候帯は何か。 (冷帯)
- 問3 南西諸島の気候帯は何か。 (亜熱帯)
- 問4 日本の気候は、季節によって風向きが変わる風の影響を強く受ける。この風を何というか。 (季節風)
- 問5 東アジアでは、5月から7月にかけて曇りや雨が多くなる。この気象現象を何というか。 (梅雨)
- 問6 釧路市、金沢市、松本市、名古屋市、高松市、那覇市の雨温図は次の(A)～(G)のいずれか答えよ。



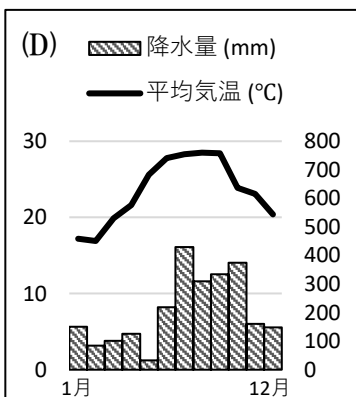
年平均気温：17.1°C
年降水量：1695.5mm



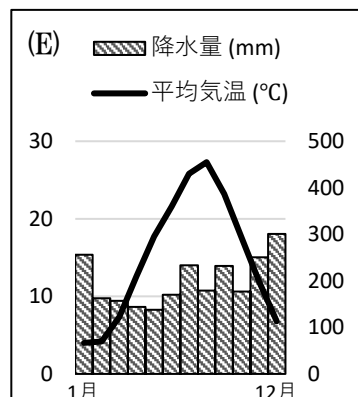
年平均気温：6.6°C
年降水量：1136.5mm



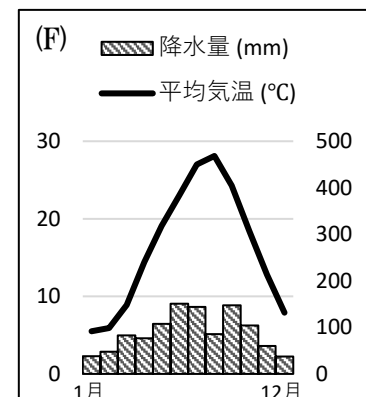
年平均気温：11.8°C
年降水量：1031.0mm



年平均気温：23.5°C
年降水量：2469.5mm



年平均気温：15.0°C
年降水量：2401.6mm



年平均気温：16.3°C
年降水量：1082.4mm

- (釧路市:(B)) (金沢市:(E)) (松本市:(C))
- (名古屋市:(A)) (高松市:(F)) (那覇市:(D))

