

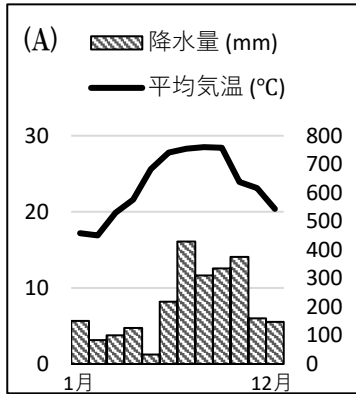
日本の気候の特色.4

名前

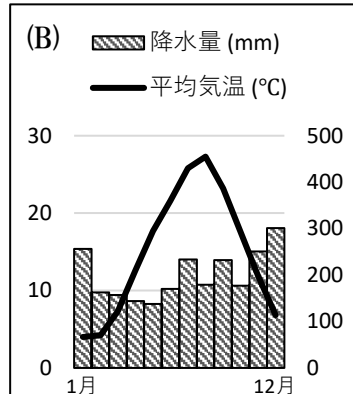
解答

解答

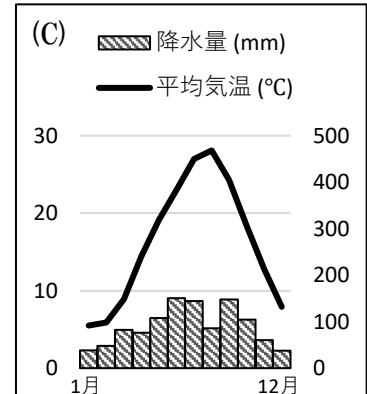
問1 以下の雨温図について設問に答えよ。



年平均気温：23.5°C
年降水量：2469.5mm



年平均気温：15.0°C
年降水量：2401.6mm



年平均気温：16.3°C
年降水量：1082.4mm

(1) (A)は沖縄県那覇市の雨温図である。那覇市の気候は、日本の気候区分のうち南西諸島の気候に分類される。南西諸島の気候の特徴を答えよ。

(一年中気温が高く、雨が多い)

(2) 南西諸島が属する気候帯は、熱帯に近い温帯である。この気候帯を何というか。

(亜熱帯)

(3) 沖縄本島、石垣島、佐渡島のうち南西諸島に含まれないのはどれか。

(佐渡島)

(4) (B)は石川県金沢市の雨温図である。金沢市の気候は、日本の気候区分のうち日本海側の気候に分類される。日本海側の気候の特徴を答えよ。

(冬の降水量が多い)

(5) (C)は香川県高松市の雨温図である。高松市の気候は、日本の気候区分のうち瀬戸内の気候に分類される。瀬戸内の気候の特徴を答えよ。

(1年を通して雨が少なく、晴天の日が多い)

(6) 瀬戸内では、夏に干ばつが起りやすい。このため、農業用水を確保するために、どのようなものが造られているか。

(ため池)

(7) 瀬戸内の気候は、2つの山地の影響を受けている。この2つの山地は何か。

(中国山地) (四国山地)

