

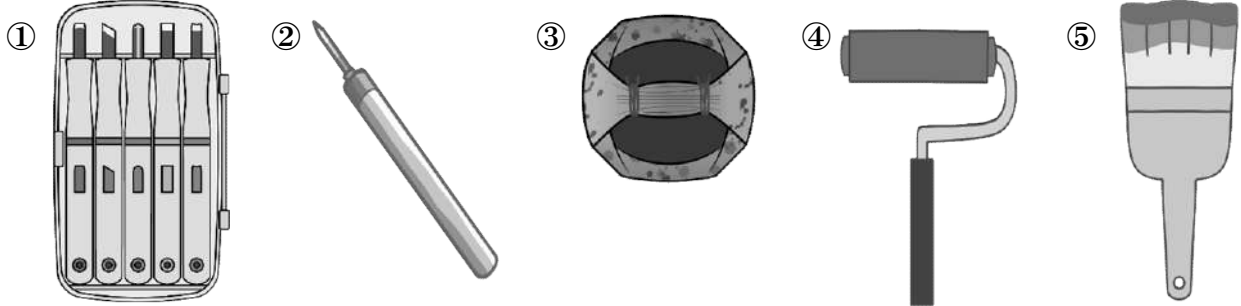
版画.2

名前

解答

解答


問1 下の図は版画の道具である。道具の名称をそれぞれ答えよ。



- ① (彫刻刀) ② (ニードル)
 ③ (ばれん) ④ (ローラー)
 ⑤ (刷毛 (はけ))

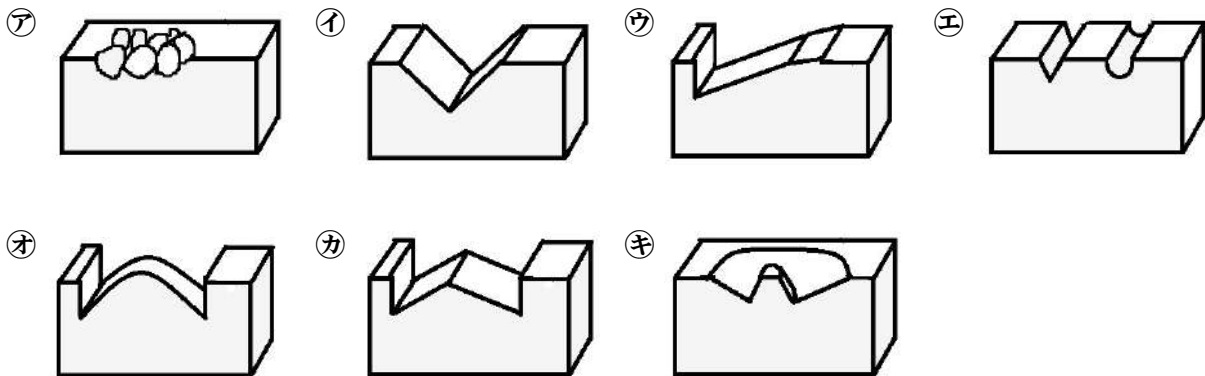
問2 木彫や木版画、木目込み細工などの木材を削るために使用する刃物にはいろいろな種類の刃がある。

①～④は何という名の刃物か。



- ① (丸刀))
 ② (切り出し刀))
 ③ (三角刀))
 ④ (平刀))

問3 次の図は彫り方の種類について表している。彫り方の名称を答えよ。



- ア (石目彫り)) イ (葉研彫り)) ウ (片切り彫り))
 エ (線彫り)) オ (かまぼこ彫り)) カ (菱合い彫り (菱彫り)))
 キ (浮き彫り))

