

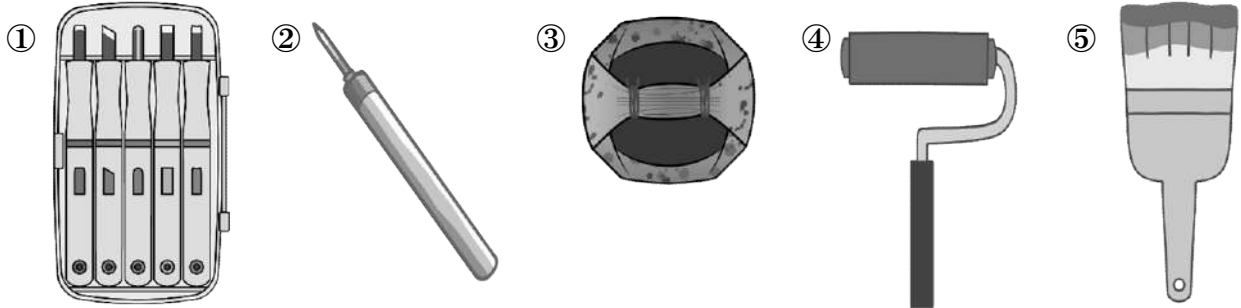
版画.2

名前 _____



解答

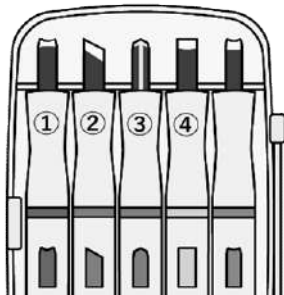
問1 下の図は版画の道具である。道具の名称をそれぞれ答えよ。



- ① ()
- ② ()
- ③ ()
- ④ ()
- ⑤ ()

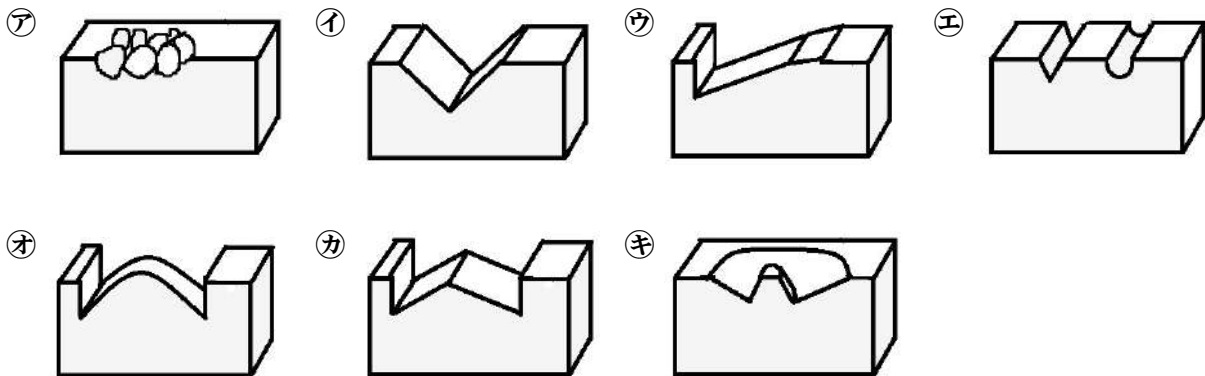
問2 木彫や木版画、木目込み細工などの木材を削るために使用する刃物にはいろいろな種類の刃がある。

①～④は何という名の刃物か。



- ① ()
- ② ()
- ③ ()
- ④ ()

問3 次の図は彫り方の種類について表している。彫り方の名称を答えよ。



- ア ()
- イ ()
- ウ ()
- エ ()
- オ ()
- カ ()
- キ ()