

# プログラミング.1

名前 \_\_\_\_\_



解答

問1 コンピュータが認識できる言語を何というか。 ( )

問2 プログラミング言語の例を3つ挙げよ。 ( )  
 ( ) ( ) ( )

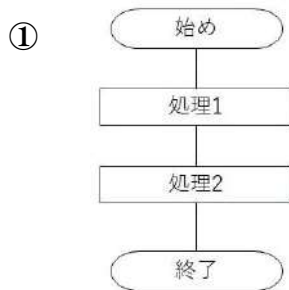
問3 プログラミング言語には、テキストを入力するものの他に、どのようなものがあるか。  
 ( )

問4 処理の方法や手順を、コンピュータに対する命令の形で記述したものを何というか。  
 ( )

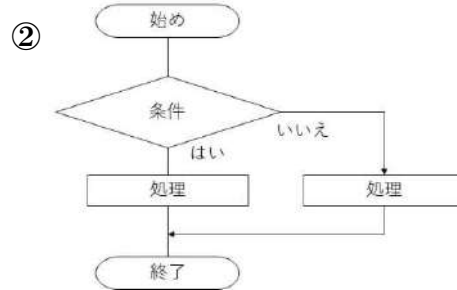
問5 複数の情報処理の手順を統合して、全体の情報処理の手順を示す図を何というか。  
 ( )

問6 1つの情報処理の流れを確認するための図で、長方形やひし形などのブロックを用いて表される図を何と  
 いうか。 ( )

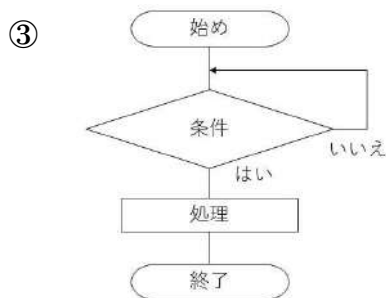
問7 次の①～③の図は、順次、反復、分岐のうち、どれを表すか。



( )



( )



( )

